

Wirbeltiere in extremen Lebensräumen, Fische in der Tiefe, LEBEN IN DER FINSTERNIS

AB 6

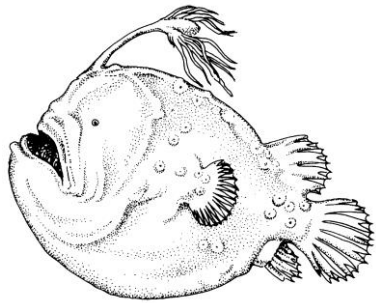
Name: Klasse: Datum:

Lies die Seite 220 im Biologiebuch durch und bearbeite das Arbeitsblatt.
Male das AB bunt an.

Zu 1) Benutze die Begriffe: Wassertiefe, Wassertemperatur, Wasserdruck, Nahrungsangebot
 Zu 2) Siehe Seite 220! Finde zu jedem Fisch wenigstens 3 Anpassungen.

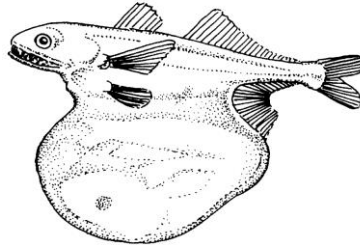
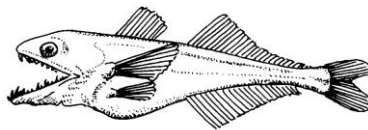
1. Nenne Lebensbedingungen für Fische in der Tiefsee!

2. Benenne die abgebildeten Fische sowie deren Angepasstheiten an den Lebensraum Tiefsee!

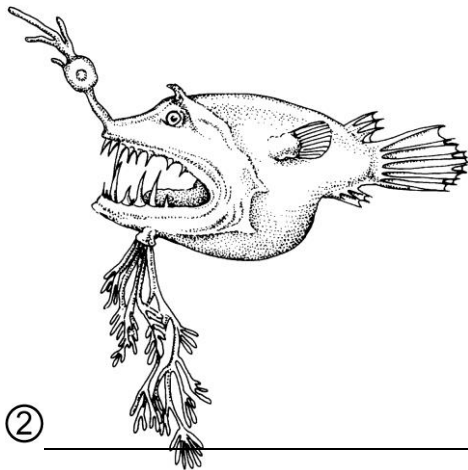


④ _____

① _____



③ _____



② _____

