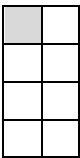
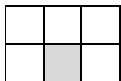
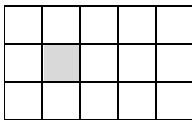
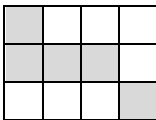
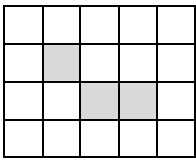

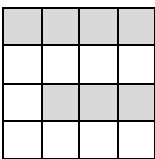
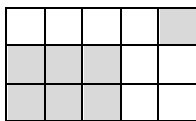
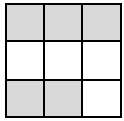


1 Welcher Bruchteil ist hier dargestellt?

a)  b)  c)  d)  e) 

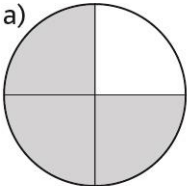
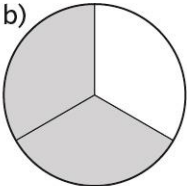
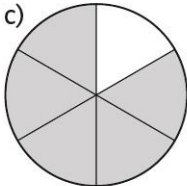
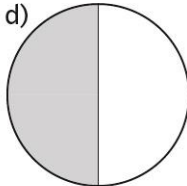
Bruchteil Bruchteil Bruchteil Bruchteil Bruchteil

2 Welcher Bruchteil ist hier eingefärbt?

a)  b)  c)  d) 




Bruchteil Bruchteil Bruchteil Bruchteil

3 Welcher Bruchteil ist hier gefärbt, welcher ist nicht gefärbt?

a)  b)  c)  d) 


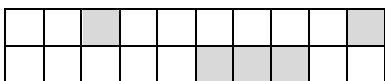
Bruchteil Bruchteil Bruchteil Bruchteil

4 Gib an, welcher Anteil gefärbt ist und welcher nicht.

a)  b)  c) 

Gefärbt: Gefärbt: Gefärbt:

Ungefärbt: Ungefärbt: Ungefärbt:

d)  e) 

Gefärbt: Gefärbt:

Ungefärbt: Ungefärbt:

5 Ein Kuchen ist in 16 gleich große Stücke geschnitten. Nach dem Kaffeetrinken liegen noch 5 Stücke auf dem Tortenteller.

Antwort: _____