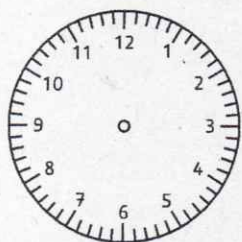
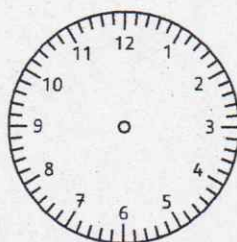


Time

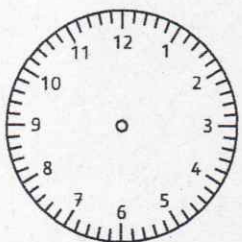
4. Draw the hands of the clocks. (Zeichne die Zeiger ein!)



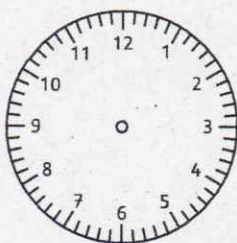
a) It's half past five.



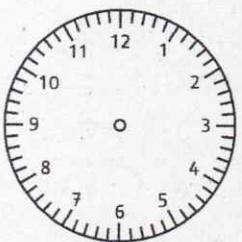
b) It's ten past one.



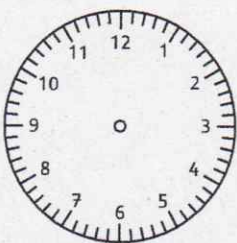
c) It's twenty-five to eight.



d) It's quarter past ten.



e) It's quarter to twelve.



f) It's five past six.

Neben der Zeitmessung mit Zeiger-Uhren (analoge Zeitmessung) lesen wir die Zeit häufig auch digital ab.

12:30 = half past twelve



Bei der digitalen Zeitmessung bleibt die letzte volle Stunde (hier 12:) 60 Minuten lang bestehen, nur die Minuten werden bis zur nächsten vollen Stunde bis :59 gezählt.

Weitere Beispiele:

02:20



02:35



02:45



02:59



5. What time is it on a watch with hands? (Wie spät ist es auf einer Uhr mit Ziffernblatt?)

a) 11:05 = five past eleven

b) 08:45 = quarter to nine

c) 06:10 = _____

d) 05:30 = _____

e) 02:55 = _____

f) 03:35 = _____

g) 10:45 = _____

h) 04:50 = _____

i) 07:25 = _____

j) 09:15 = _____